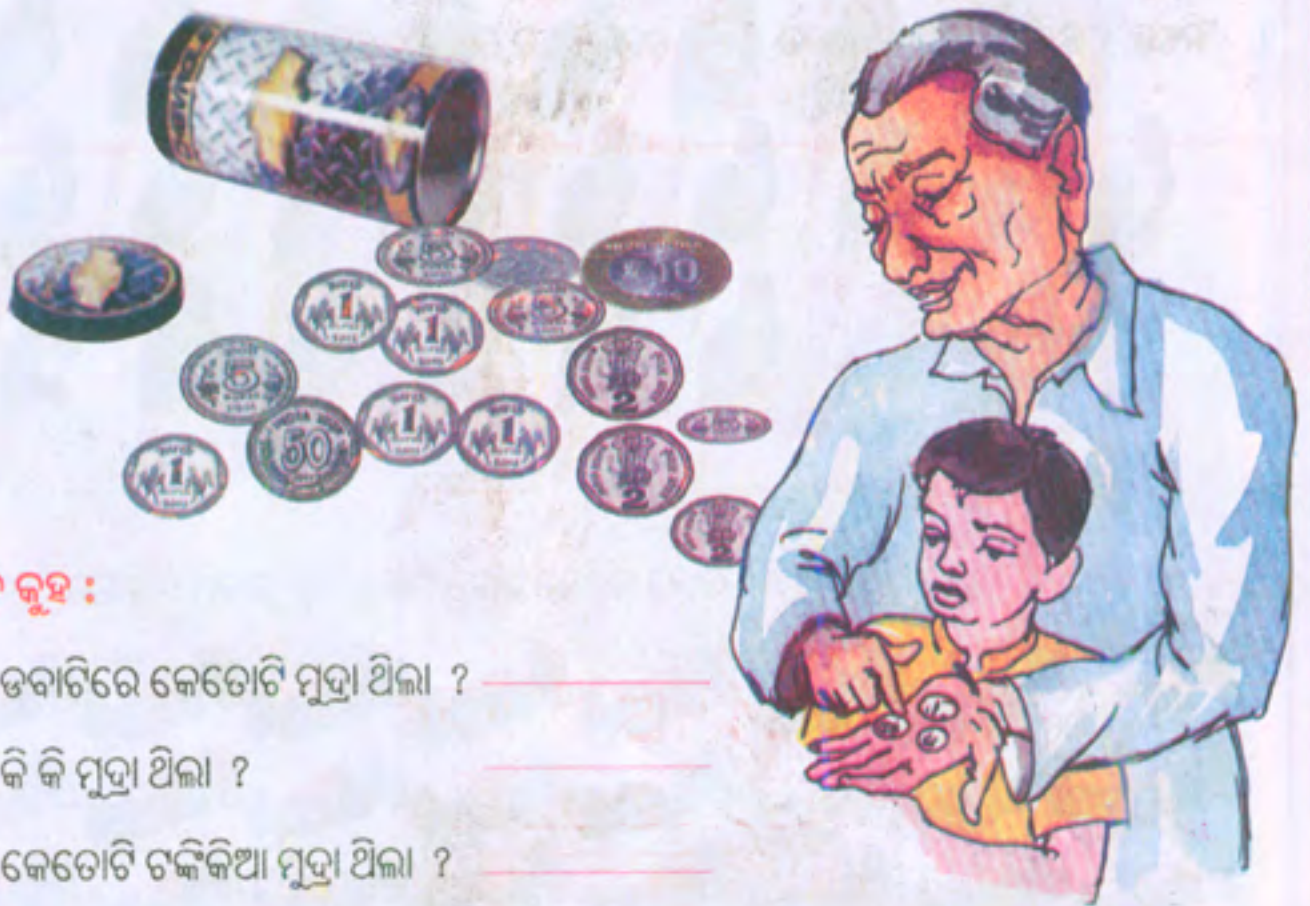


ଟଙ୍କା ପଇସା ବିଆଡ଼ିଆ କରିବା




ଦିନେ ଅଜା ତାଙ୍କ ଘର ସଫା କରୁଥିଲେ । ସଫା କରୁଥିବା ବେଳେ ଗୋଟିଏ ଡବା ପାଇଲେ । ସେଥିରେ ଆଗରୁ ଚଳୁଥିବା ମୁଦ୍ରା ଓ ବର୍ତ୍ତମାନର କିଛି ମୁଦ୍ରା ଥିଲା । ଏହି ସମୟରେ ତାଙ୍କ ନାତି ଆସି ସେଠାରେ ପହଞ୍ଚିଲା । ହାତରୁ ଡବାଟି ଚାଣିନେଲା । ନେଉନେଉ ଡବାଟି ତଳେ ପଡ଼ିଗଲା । ମୁଦ୍ରାସବୁ ତଳେ ବିଛାଡ଼ି ହୋଇ ପଡ଼ିଲା । ନାତିର ଖୁସି କହିଲେ ନ ସରେ । ସେ ସେଗୁଡ଼ିକୁ ଦେଖିଲା । ଅଜା ତାକୁ ଗୋଟି ଗୋଟି କରି ସବୁ ମୁଦ୍ରା ଚିହ୍ନାଇଲେ ଓ ନିଜ ପକେଟରୁ ନୋଟଗୁଡ଼ିଏ ବାହାର କରି ଦେଖାଇଲେ । ଆସ ଜାଣିବା, ସେ ଡବାରେ କି କି ମୁଦ୍ରା ଥିଲା ? ପକେଟରେ କି କି ନୋଟ ଥିଲା ?



ଏବେ କୁହ :

- ଡବାଟିରେ କେତୋଟି ମୁଦ୍ରା ଥିଲା ? _____
- କି କି ମୁଦ୍ରା ଥିଲା ? _____
- କେତୋଟି ଟଙ୍କାକିଆ ମୁଦ୍ରା ଥିଲା ? _____
- ପ୍ରତ୍ୟେକ ମୁଦ୍ରାରୁ କେତୋଟି ଲେଖାଏଁ ଅଛି ଗଣ ଓ କୁହ ।

- ଅଜ୍ଞ ପକେଟରୁ କେତେ ନୋଟ୍ ବାହାର କରି ଚିହ୍ନାଇଲେ । ଆସ, ସେ ସବୁକୁ ଚିହ୍ନିବା ।



ଶିକ୍ଷକଙ୍କ ପାଇଁ ସୂଚନା : ଶିକ୍ଷକ ପ୍ରକୃତ ମୁଦ୍ରା ଓ ନୋଟରୁ ଆଣି ପିଲାଙ୍କୁ ଚିହ୍ନାଇବେ । ଅରକେ ୩୪ଟି ମୁଦ୍ରା ବା ନୋଟ୍ ନେଇ ସେଗୁଡ଼ିକର ପରିମାଣ କେତେ ଅଛି ଆଲୋଚନା କରିବେ । ଯେପରି ୩୪ଟି ମୁଦ୍ରା ବା ନୋଟର ମୋଟ ପରିମାଣ ୪୦ ଟଙ୍କାରୁ ଅଧିକ ନହୁଏ ସେଥିପ୍ରତି ଦୃଷ୍ଟି ଦେବେ ।





















ଅଭ୍ୟାସ କାର୍ଯ୍ୟ

୧. ସମାନ ପରିମାଣକୁ ଗାର ଟାଣି ଚିହ୍ନିଅ—







9. କୋଠରିରେ ଥିବା ମୁଦ୍ରା ଓ ନୋଟ୍ ଗୁଡ଼ିକର ମୂଲ୍ୟ ଖାଲିଘରେ ଲେଖ ।



	<p>୫ ଟଙ୍କା</p>
	
	
	
	
	
	
	



୩. ତଳେ ଦିଆଯାଇଥିବା ନୋଟ୍ ଦେଖି ଖାଲିଘର ପୂରଣ କର ।


 ଟି =
 


 ଟି =
 


 ଟି =
 

୪. ଖାଲିଘର ଭର୍ତ୍ତର ଲେଖ ।

(କ) ୧ ଟଙ୍କାରେ କେତୋଟି ୨ ଟଙ୍କା ପଇସା ମୁଦ୍ରା ହେବ ?

(ଖ) ୧ ଟଙ୍କାରେ କେତୋଟି ୫୦ ପଇସା ମୁଦ୍ରା ହେବ ?

(ଗ) ୨ ଟଙ୍କାରେ କେତୋଟି ୧ ଟଙ୍କା ମୁଦ୍ରା ହେବ ?

(ଘ) ୨ ଟଙ୍କାରେ କେତୋଟି ୫୦ ପଇସା ମୁଦ୍ରା ପାଇବା ?

(ଙ) ୨ ଟଙ୍କାରେ କେତୋଟି ୨ ଟଙ୍କା ପଇସା ମୁଦ୍ରା ପାଇବା ?

(ଚ) ଗୋଟିଏ ୫ ଟଙ୍କା ମୁଦ୍ରା ଦେଲେ କେତୋଟି ୧ ଟଙ୍କା ମୁଦ୍ରା ପାଇବା ?

(ଛ) ଗୋଟିଏ ୫ ଟଙ୍କା ମୁଦ୍ରା ଦେଲେ କେତୋଟି ୫୦ ପଇସା ମୁଦ୍ରା ପାଇବା ?



୪. ନୋଟ୍ ଓ ମୁଦ୍ରା ମିଶି କେତେ ହେବ ଲେଖ ?

(କ)



= ୩୦ ଟଙ୍କା

(ଖ)



= ----- ଟଙ୍କା

(ଗ)



= ----- ଟଙ୍କା

(ଘ)



= ----- ଟଙ୍କା

୬. ମୁଦ୍ରାର ମୂଲ୍ୟକୁ ମିଶାଇ ମୋଟ ମୂଲ୍ୟ ଲେଖ ।

(କ) ୨୦ ଟଙ୍କା + ୪ ଟଙ୍କା = ଟଙ୍କା

(ଖ) ୨୦ ଟଙ୍କା + ୧୦ ଟଙ୍କା = ଟଙ୍କା

(ଗ) ୧୦ ଟଙ୍କା + ୪ ଟଙ୍କା + ୪ ଟଙ୍କା = ଟଙ୍କା

(ଘ) ୨୦ ଟଙ୍କା + ୧୦ ଟଙ୍କା + ୧୦ ଟଙ୍କା = ଟଙ୍କା



୭. ମନେ ମନେ ହିସାବ କରି କୁହ ଓ ପରେ ଉତ୍ତରକୁ ଭାସାଣ ପାଖ କୋଠାରେ ଲେଖ ।

(କ) ତୁମେ ଗୋଟିଏ ବହି କିଣି ଦୋକାନୀକୁ ୨ଟି ୧୦ ଟଙ୍କା ନୋଟ୍ ଓ ଗୋଟିଏ ୫ ଟଙ୍କା ନୋଟ୍ ଦେଲ । ବହିର ଦାମ୍ କେତେ ?

(ଖ) ଗୋଟିଏ ବିସ୍କୁଟ୍ ପ୍ୟାକେଟ୍‌ର ଦାମ୍ ୨୨ଟଙ୍କା । କୁନା ଗୋଟିଏ ବିସ୍କୁଟ୍ ପ୍ୟାକେଟ୍ କିଣି ଦୋକାନୀକୁ ୩୦ଟଙ୍କା ଦେଲା । ଦୋକାନୀ ତାକୁ କେତେ ଟଙ୍କା ଫେରାଇବ ?

(ଗ) ଗୋଟିଏ ମିଠାଇର ମୂଲ୍ୟ ୨ଟଙ୍କା । ସାମା ୨ଟି ମିଠାଇ କିଣି ଦୋକାନୀକୁ ୧୦ ଟଙ୍କା ଦେଲା । ଦୋକାନୀ ତାକୁ କେତେ ଟଙ୍କା ଫେରାଇବ ?

(ଘ) ଗୋପାଳ ପାଖରେ କିଛି ୫ ଟଙ୍କା ମୁଦ୍ରା ଓ ୧୦ ଟଙ୍କା ନୋଟ୍ ଅଛି । ୩୫ ଟଙ୍କା ମୂଲ୍ୟର ଏକ ଖେଳନା କିଣିବା ପାଇଁ ୧୦ ଟଙ୍କା ନୋଟ୍ ସହିତ କେତୋଟି ୫ ଟଙ୍କା ମୁଦ୍ରା ଦେବ ?

(ଙ) ସୀତା ପାଖରେ ୨ଟି ୨ ଟଙ୍କା ନୋଟ୍ ଓ ୫ଟି ୫ଟଙ୍କା ନୋଟ୍ ଥିଲା । ତେବେ ସେ ଦୁଇ ଜଣଙ୍କ ପାଖରେ ମୋଟ କେତେ ଟଙ୍କା ଥିଲା ?

ତୁମ ପାଇଁ କାମ



ଆସ, ଆମେ ମୁଦ୍ରାର ଛାପ ଆଙ୍କିବା ।

- ବିଭିନ୍ନ ପ୍ରକାର ମୁଦ୍ରା ସଂଗ୍ରହ କର ।
- ଟେବୁଲ୍ ଉପରେ ମୁଦ୍ରା ରଖି ତା' ଉପରେ ଏକ ପତଳା କାଗଜ ରଖ ।
- ଗୋଟିଏ ହାତରେ କାଗଜକୁ ଧରି ଯେନ୍‌ସିଲର ପଛପଟକୁ ମୁଦ୍ରା ଉପରେ ଧୀରେ ଧୀରେ ଘଷ ।
- ତୁମ ମନ ପସନ୍ଦର ମୁଦ୍ରା ଚିତ୍ର ପାଇବ ।