



ଘୋଡ଼ା ଓ ହାତୀମାନଙ୍କ ମଧ୍ୟରେ କ୍ରିକେଟ ଖେଳର ଫାଇନାଲ୍ ମ୍ୟାଚ୍ । ଗଧକୁ ରନ୍ ହିସାବ କରିବାକୁ ଦାୟିତ୍ୱ ଦିଆଯାଇଛି । ଘୋଡ଼ାମାନେ ଖୁବ୍ ଜୋରରେ ଦୌଡ଼ି ବହୁତ ରନ୍ କଲେ । ତା’ ପରେ ହାତୀମାନଙ୍କ ପାଳି । ହାତୀମାନେ ଜୋରରେ ଦୌଡ଼ି ନ ପାରି ଗୋଟିଏ ପରେ ଗୋଟିଏ ରନ୍ ଆଉଟ୍ ହେଲେ । ହାତୀ ଦଳର ଅଧିନାୟକ ବ୍ୟାଟିଂ କରିବାକୁ ଆସିଲେ । ସମସ୍ତେ ଜୋରରେ ଡାକି ମାରିଲେ । ଅଧିନାୟକ ଚାହୁଁ ଚାହୁଁ ଟି ବଡ଼ ଛକା ମାରିଲେ । ଗଧ ରନ୍ ହିସାବ କରିବ କିପରି ?

(୨ + ୨ + ୨ + ୨ + ୨ + ୨ + ୨ + ୨) ଏହିପରି ଲେଖି ଗଧ ମିଶାଣ ଆରମ୍ଭ କଲା । ହାତୀ ନେତାଙ୍କର ରନ୍ ଘୋଷଣା କରାଯିବ । ସମସ୍ତେ ଶୁଣିବା ପାଇଁ ଚାହିଁ ରହିଥା’ନ୍ତି । ହାତୀର ରନ୍ ଜାଣିବା ପାଇଁ ଗଧ ଚାରି ପାଖରେ ସମସ୍ତେ ଘେରି ଗଲେ । ବଗୁଲିଆ ମାଙ୍କଡ଼ଛୁଆ ସମସ୍ତଙ୍କୁ ଠେଲାଇବା କରି ଗଧ ପାଖରେ ପହଞ୍ଚିଲା । ସେ ଗଧକୁ କହିଲା, “ଆରେ ଗଧ ଭାଇ, ଏମିତି ଶୀଘ୍ର ହିସାବ କରି ହେବ ନାହିଁ” ।

୨ କୁ ୮ ଥର ମିଶାଇବା ଯାହା, ୨ କୁ ୮ ଦ୍ୱାରା ଗୁଣିଦେଲେ ଫଳାଫଳ ତାହା ହିଁ ହୁଏ । ତେଣୁ ଅତି ଶୀଘ୍ର ହାତୀର ରନ୍ ଜାଣିବା ପାଇଁ ଗଧର ଚେତା ପଶିଲା । ସେ କହିଲା- “ବାଃ । ଏହା ତ ବଡ଼ିଆ ଉପାୟ । ବର୍ତ୍ତମାନ ହାତୀ ଯେତେ ଛକା ମାରିଲେ ମଧ୍ୟ ମୁଁ ଶୀଘ୍ର ହିସାବ କରି ଘୋଷଣା କରିଦେବି ।”

$$୨ + ୨ + ୨ + ୨ + ୨ + ୨ + ୨ + ୨ = ୪୮$$

$$୨ ର ୮ ଗୁଣ = ୪୮$$

ବା

$$୨ \times ୮ = ୪୮$$

● ବର୍ତ୍ତମାନ ତୁମେ କହ କେତେ ହେବ ?

୧ ର ୪ ଗୁଣ =

୧ ର ୬ ଗୁଣ =

୧ ର ୭ ଗୁଣ =

୧ ର ୯ ଗୁଣ =

ଏହି ସବୁ ଗୁଣଫଳକୁ ଏପରି ଲେଖାଯାଇପାରେ ।

୧	୧୨	୧୮	୨୪	୩୦	୩୬	୪୨	୪୮	୫୪	୬୦
୧	୨	୩	୪	୫	୬	୭	୮	୯	୧୦
୧	୧	୧	୧	୧	୧	୧	୧	୧	୧

● ଏବେ, ସେହିପରି ୧ ର ଗୁଣନ ଖଦା ପ୍ରସ୍ତୁତ କର ।

୧ ର ୧ ଗୁଣ ୧ $୧ \times ୧ = ୧$

୧ ର ୨ ଗୁଣ $୧ + ୧$ $୧ \times ୨ = ୧୪$

୧ ର ୩ ଗୁଣ $୧ + ୧ + ୧$ $୧ \times ୩ = ୨୧$

୧ ର ୪ ଗୁଣ

୧ ର ୫ ଗୁଣ

୧ ର ୬ ଗୁଣ

୧ ର ୭ ଗୁଣ

୧ ର ୮ ଗୁଣ

୧ ର ୯ ଗୁଣ

● ୧ ର ୧୦ ଗୁଣ



● ପୂର୍ବ ଗୁଣନଖ୍ୟାକୁ ଲକ୍ଷ୍ୟ କରି ତଳ ପ୍ରଶ୍ନମାନଙ୍କର ଉତ୍ତର ଲେଖ ।

୧. ଚାରି ସପ୍ତାହରେ କେତେ ଦିନ ?

୨. ଗୋଟିଏ କଲମର ଦାମ୍ ୭ ଟଙ୍କା । ୬ଟି କଲମର ଦାମ୍ କେତେ ?

୩. ଜଣେ ପିଲା ୬ଟି ବେଲୁନ୍ କିଣିଲା । ପ୍ରତ୍ୟେକ ପିଲା ସମାନ ସଂଖ୍ୟକ ବେଲୁନ୍ କିଣିଲେ, ୮ ଜଣ ପିଲା କେତୋଟି ବେଲୁନ୍ କିଣିବେ ?.....

୮ ର ଗୁଣନ ଖ୍ୟା :-

ଗୋଟିଏ ବୁଡ଼ିଆଣାର ଗୋଡ଼ ସଂଖ୍ୟା =

୩ଟି ବୁଡ଼ିଆଣାର ଗୋଡ଼ ସଂଖ୍ୟା = ୮ + ୮ + ୮

= ୮ ର ୩ ଗୁଣ = ୮ × ୩ = ୨୪



ସେହିପରି ତାଲିକାରେ ଥିବା ଖାଲିସ୍ଥାନ ପୂରଣ କର ।

୮ ର ୧ ଗୁଣ ୮ ୮ × ୧ = ୮

୮ ର ୨ ଗୁଣ ୮ + ୮ ୮ × ୨ = ୧୬

୮ ର ୩ ଗୁଣ ୮ + ୮ + ୮ ୮ × ୩ = ୨୪

୮ ର ୪ ଗୁଣ

୮ ର ୫ ଗୁଣ

୮ ର ୬ ଗୁଣ

୮ ର ୭ ଗୁଣ

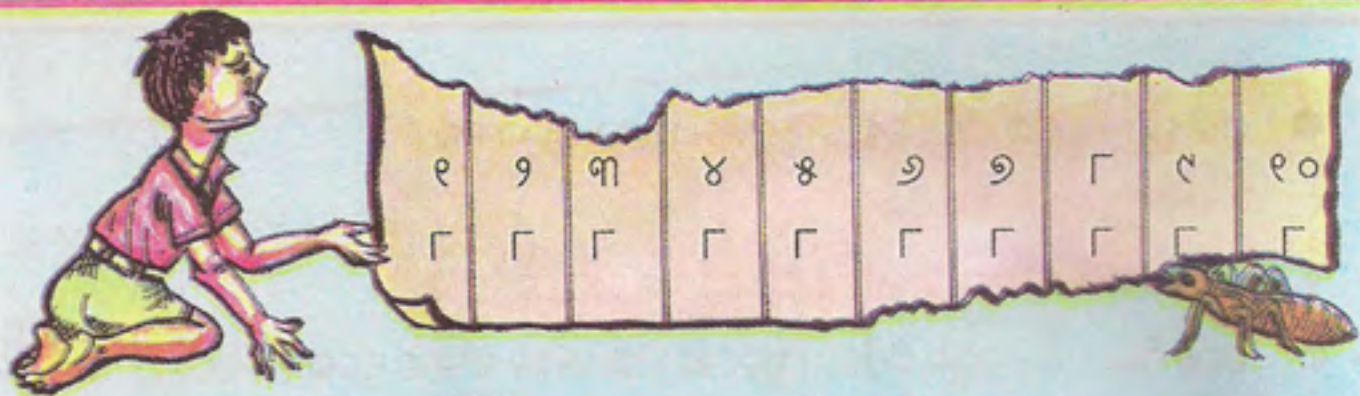
୮ ର ୮ ଗୁଣ

୮ ର ୯ ଗୁଣ

୮ ର ୧୦ ଗୁଣ

କୁନ୍‌ମୁନ୍ ୮ ର ଗୁଣନ ଖ୍ୟା ଲେଖି ଟେବୁଲ ଉପରେ ଥୋଇ ଶୋଇଗଲା । ସେ ସକାଳୁ ଉଠି ଦେଖିଲା ବେଳକୁ ତା' କାଗଜକୁ ଉଇ ନଷ୍ଟ କରି ଦେଇଛି । କୁନ୍‌ମୁନ୍ ଏହା ଦେଖି ଭୋ - ଭୋ କରି କାନ୍ଦିଲା । ଉଇ କାଟିଥିବା ସ୍ଥାନରେ ତୁମେ ଉତ୍ତର ଠିକ୍ କରି ଲେଖି ଯୋଡ଼ି ଦେଲେ କୁନ୍‌ମୁନ୍‌ର କାନ୍ଦିବା ବନ୍ଦ ହେବ ।





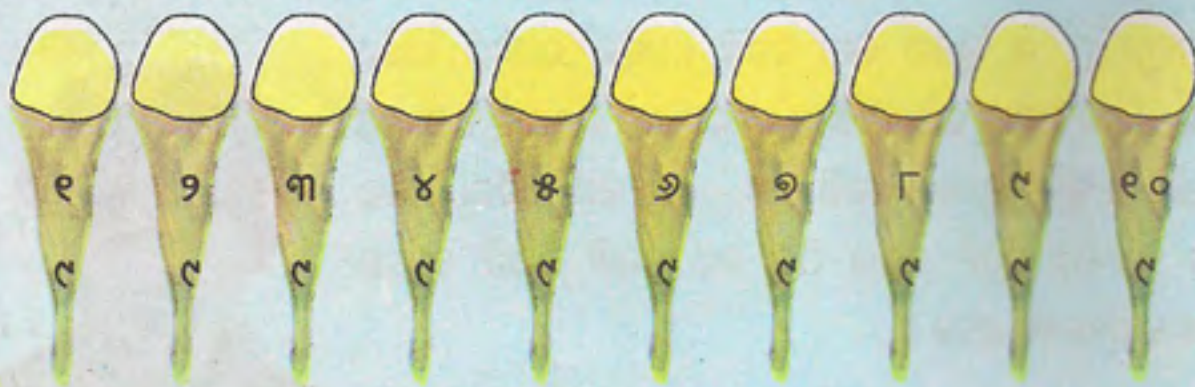
● ଏବେ କହ ।

- ୧. ଗୋଟିଏ ମାଠିଆରେ ୮ ଲିଟର ଦୁଧ ଧରେ । ସେହିପରି ୭ଟି ମାଠିଆରେ କେତେ ଲିଟର ଦୁଧ ରହିବ ?
- ୨. ଗୋଟିଏ ସାର୍ଟରେ ୮ଟି ବୋତାମ ଲାଗିଲେ, ସେହିପରି ୫ଟି ସାର୍ଟରେ କେତୋଟି ବୋତାମ ଲାଗିବ ?
- ୩. ଗୋଟିଏ ଧାଡ଼ିରେ ୮ ଜଣ ପିଲା ବସିଲେ, ସେହିପରି ୪ଟି ଧାଡ଼ିରେ କେତେ ଜଣ ପିଲା ବସିବେ ?

୯ ର ଗୁଣନ ଖଦା :-

୯ ର ୧ ଗୁଣ	୯	୯×୧	= ୯
୯ ର ୨ ଗୁଣ	$୯ + ୯$	୯×୨	= ୧୮
୯ ର ୩ ଗୁଣ	$୯ + ୯ + ୯$	୯×୩	= ୨୭
୯ ର ୪ ଗୁଣ
୯ ର ୫ ଗୁଣ
୯ ର ୬ ଗୁଣ
୯ ର ୭ ଗୁଣ
୯ ର ୮ ଗୁଣ
୯ ର ୯ ଗୁଣ
୯ ର ୧୦ ଗୁଣ

ତୁମେ ଏଗୁଡ଼ିକ ପୂରଣ କର ।



● ମନେ ମନେ ହିସାବ କରି କହ :

୧. ୯ଟି ମାଛ ଅଛି । ପ୍ରତ୍ୟେକ ମାଛକୁ ୯ ଖଣ୍ଡ କରି କଟାଯିବ । ତେବେ, ମୋଟରେ କେତେ ଖଣ୍ଡ ମାଛ ହେବ ?
୨. ଜଣେ ବଢ଼େଇକୁ ଗୋଟିଏ ଆଲମିରା ତିଆରି କରିବାକୁ ୯ ଦିନ ସମୟ ଲାଗେ । ୬ଟି ଆଲମିରା କରିବା ପାଇଁ ତାକୁ ମୋଟ କେତେ ଦିନ ଲାଗିବ ?
୩. ଗୋଟିଏ ବ୍ୟାଗରେ ୯ କି.ଗ୍ରା. ଚିନି ରହିଲେ, ସେହିପରି ୬ଟି ବ୍ୟାଗରେ କେତେ ଚିନି ରହିବ ?

ଆସ ରଙ୍ଗ ଦେବା :-

ତଳେ କେତେଗୁଡ଼ିଏ କାର୍ଡରେ ଗୁଣନ କରାଯିବାକୁ କୁହାଯାଇଛି । ଯେଉଁ କାର୍ଡରେ ସଂଖ୍ୟାମାନଙ୍କର ଗୁଣଫଳ ୩୨, ସେହି କାର୍ଡକୁ ନାଲି ରଙ୍ଗ ଦିଅ, ଗୁଣଫଳ ୨୪ ହେଲେ ନୀଳରଙ୍ଗ ଦିଅ, ଗୁଣଫଳ ୩୬ ହେଲେ ସବୁଜ ରଙ୍ଗ ଦିଅ । ଅନ୍ୟ କାର୍ଡଗୁଡ଼ିକରେ କୌଣସି ରଙ୍ଗ ଦିଅ ନାହିଁ ।

୬×୬	୮×୨	୬×୪	୪×୮	୭×୪
୮×୪	୮×୭	୮×୩	୭×୬	୯×୪

୧୦ର ଗୁଣନ ଖନ୍ଦା

୧୦ ର ୧ ଗୁଣ	୧୦	୧୦ × ୧
୧୦ ର ୨ ଗୁଣ	୧୦ + ୧୦	୧୦ × ୨
୧୦ ର ୩ ଗୁଣ	୧୦ + ୧୦ + ୧୦	୧୦ × ୩
୧୦ ର ୪ ଗୁଣ
୧୦ ର ୫ ଗୁଣ
୧୦ ର ୬ ଗୁଣ
୧୦ ର ୭ ଗୁଣ
୧୦ ର ୮ ଗୁଣ
୧୦ ର ୯ ଗୁଣ
୧୦ ର ୧୦ ଗୁଣ

ତୁମେ ଖାଲି ଘରଗୁଡ଼ିକ ପୂରଣ କର ।

<input type="text"/>	<input type="text"/>	<input type="text"/>	<input type="text"/>	<input type="text"/>	<input type="text"/>	<input type="text"/>	<input type="text"/>	<input type="text"/>	<input type="text"/>
୧	୨	୩	୪	୫	୬	୭	୮	୯	୧୦
୧୦	୧୦	୧୦	୧୦	୧୦	୧୦	୧୦	୧୦	୧୦	୧୦

● ଏବେ କହ :

- (କ) ଗୋଟିଏ ଧାଡ଼ିରେ ୧୦ଟି ଚାରା ଲାଗିଲେ, ୫ଟି ଧାଡ଼ିରେ କେତୋଟି ଚାରା ଲାଗିବ ?
- (ଖ) ଗୋଟିଏ କଲମର ଦାମ ୧୦ ଟଙ୍କା ହେଲେ, ସେହିଭଳି ୮ଟି କଲମର ଦାମ କେତେ ହେବ ?
- (ଗ) ୭ଟି ସମାନ ଲମ୍ବର କାଠି ଅଛି । ପ୍ରତ୍ୟେକ କାଠିକୁ ସମାନ ୧୦ ଖଣ୍ଡ ଲେଖାଏଁ କଲେ, ମୋଟରେ କେତେ ଖଣ୍ଡ କାଠି ହେବ ?
- (ଘ) ଗୋଟିଏ କାରର ୪ଟି ଚକ । ୧୦ଟି କାରର କେତୋଟି ଚକ ?

● ଖାଲି ସ୍ଥାନଗୁଡ଼ିକୁ ପୂରଣ କର ।

- ୬, ୧୨, ୧୮,,,,, ୬୦
- ୭, ୧୪, ୨୧,,,,, ୭୦
- ୮, ୧୬, ୨୪, ୩୨,,,, ୮୦
- ୯, ୧୮, ୨୭, ୩୬,,,, ୯୦
- ୧୦, ୨୦, ୩୦, ୪୦,,,, ୧୦୦

● ତଳ ଟେବୁଲରେ ଲଗାଲଗି ରହିଥିବା ଘର ଦୁଇଟିରେ ଥିବା ସଂଖ୍ୟା ଦୁଇଟିର ଗୁଣଫଳକୁ ଟେବୁଲ ବାହାର ପଟେ ସେହି କଡ଼ରେ ଥିବା ଘରେ ଲେଖ ।

			୨୭	
	୧	୨	୩	
୩୨	୮	୪	୯	
	୬	୬	୫	୩୦
	୫୬			

ସେହିଭଳି ଆଉ କେତୋଟି ଟେବୁଲ କାଟି ସେଥିରେ ୧ ରୁ ୧୦ ମଧ୍ୟରେ ବିଭିନ୍ନ ସଂଖ୍ୟା ଲେଖି ପୂର୍ବଭଳି ଗୁଣଫଳ ନିର୍ଣ୍ଣୟ କରି ଖାଲିଘରେ ଲେଖ । ଦେଖ, କିଏ କେତୋଟି ଗୁଣଫଳ ଲେଖିପାରୁଛି ।

ଶୁଆନାନୀର ଦୋକାନ ଦେଖ,
 ଜୋତା କିପରି ବିକ୍ରି ହେଉଛି ଦେଖ ।
 ବୁଢ଼ିଆଣୀ, ମୂଷା, ଚଢ଼ିଆ ଦେଖ,
 କେତୋଟି ଜୋତା କିଣିବେ ଶିଖ ।
 ବାଆର ମୂଷା ଏକାଠି ହେଲେ,
 ନିଜ ପାଇଁ ଜୋତା ଉଠାଇ ନେଲେ ।
 ଛବିଶି ଚଢ଼ିଆ ଆସିଲେ ଧାଇଁ,
 କେତୋଟି ଜୋତା ଯିବେ ସେ ନେଇ ?
 ଜୋତା କିଣିବାକୁ ଅତି ସଅଳ,
 ବୁଢ଼ିଆଣୀ ଥିଲେ ଶହେ ଷୋହଳ ।
 ହିସାବ କରି କହିଲ ପିଲେ,
 କେଉଁମାନେ କେତେ ଜୋତା କିଣିଲେ ?



ଗୋଟିଏ ମୂଷା ପାଇଁ ୪ଟି ଜୋତା
 ୧୨ଟି ମୂଷା ପାଇଁ ଜୋତା ଦରକାର = ୧୨×୪
 ଏଠାରେ ୧୨ ହେଉଛି ଗୁଣ୍ୟ ଓ ୪ ହେଉଛି ଗୁଣକ
 ଗୁଣନ କ୍ରିୟା ତାହାଣ ପାଖରୁ (ଗୁଣ୍ୟର ଏକକ ଘରୁ) ଆରମ୍ଭ ହୁଏ ।

$$\begin{array}{r}
 ୧୨ \\
 \times ୪ \\
 \hline
 \end{array}$$

ଗୁଣ୍ୟର ଏକକ ଘର ଅଙ୍କକୁ ଗୁଣକ ଦ୍ୱାରା ଗୁଣନ
 $୨ \text{ ଏକ} \times ୪ = ୮ \text{ ଏକ}$
 ଗୁଣଫଳର ଏକକ ଘରେ ୮ ରହିବ ।

$$\begin{array}{r}
 ୧୨ \\
 \times ୪ \\
 \hline
 ୪୮
 \end{array}$$

ଗୁଣ୍ୟର ଦଶକ ଘର ଅଙ୍କକୁ ଗୁଣକ ଦ୍ୱାରା ଗୁଣନ
 $୧ \text{ ଦଶ} \times ୪ = ୪ \text{ ଦଶ}$
 ଗୁଣଫଳର ଦଶକ ଘରେ ୪ ରହିବ ।

ଗୁଣଫଳର ଦଶକ ଘରେ ୪ ଓ ଏକକ ଘରେ ୮

୪ ଦଶ ୮ ଏକ = ୪୮

ଏବେ କହ, ମୁଷାମାନେ କେତୋଟି ଜୋତା କିଣିଲେ ?

● ଗୋଟିଏ ଚଟିଆ ପାଇଁ ୨ଟି ଜୋତା

୨୬ଟି ଚଟିଆ ପାଇଁ ଜୋତା ଦରକାର = ୨୬×୨

ଏଠାରେ ଗୁଣକ କେତେ ?

ଗୁଣ୍ୟ କେତେ ?



ଗୁଣ୍ୟର ଏକକ ଘର ଅଙ୍କ ସହିତ ଗୁଣକର ଗୁଣନ

୬ ଏକ $\times ୨ = ୧୨$ ଏକ

୧୨ ଏକକୁ ୧ ଦଶ ୨ ଏକ ଲେଖାଯାଇପାରିବ

ଗୁଣଫଳର ଏକକ ଘରେ ୨ ଓ ଦଶକ ଘରେ ୧ ରହିବ ।

ଦଶ	ଏକ
୨	୬
×	୨
୧	୨
+	୪
୪	୨

ଗୁଣ୍ୟର ଦଶକ ଘର ଅଙ୍କ ସହ ଗୁଣନ

୨ ଦଶ $\times ୨ = ୪$ ଦଶ

ଗୁଣଫଳର ଦଶକ ଘର ତଳେ ୪ ରହିବ ।

ଏବେ ଯୋଗ କଲେ ଯୋଗଫଳ ୪୨ ହେବ । ଅର୍ଥାତ୍ $୨୬ \times ୨ = ୪୨$

● ଗୋଟିଏ ବୁଢ଼ିଆଣୀ ପାଇଁ ୮ ଟି ଜୋତା ।

୧୧ ଟି ବୁଢ଼ିଆଣୀ ପାଇଁ ଦରକାର = ୧୧×୮ ଟି ଜୋତା

ଏଠାରେ ଗୁଣ୍ୟ କେତେ ?

ଗୁଣକ କେତେ ?

ଗୁଣ୍ୟର ଏକକ ଘର ଅଙ୍କ ସହିତ ଗୁଣକର ଗୁଣନ

୬ ଏକ $\times ୮ = ୪୮$ ଏକ

୪୮ କୁ ୪ ଦଶ ୮ ଏକ ଲେଖାଯାଇପାରିବ

ଗୁଣଫଳର ଦଶକ ଘରେ ୪ ଓ ଏକକ ଘରେ ୮ ରହିବ ।



ଗୁଣ୍ୟର ଦଶକ ଘର ଅଙ୍କ ସହିତ ଗୁଣକର ଗୁଣନ

$$୧ \text{ ଦଶ} \times ୮ = ୮ \text{ ଦଶ}$$

ତେଣୁ, ଗୁଣଫଳର ଦଶକ ଘରେ ୮ ରହିବ ।

ଗୁଣ୍ୟର ଶତକ ଘର ଅଙ୍କ ସହିତ ଗୁଣକର ଗୁଣନ

$$୧ \text{ ଶତ} \times ୮ = ୮ \text{ ଶତ}$$

ଗୁଣଫଳର ଶତକ ଘରେ ଲେଖାଯିବ ୮ ।

$$\begin{array}{r} ୧୧୭ \\ \times ୮ \\ \hline ୪୮ \\ ୮୦ \\ + ୮୦୦ \\ \hline ୯୨୮ \end{array}$$

ଗୁଣଫଳ ହେଲା ୯ ଶହ ୨ ଦଶ ୮ ଏକ ବା ୯୨୮

ବୁଦ୍ଧିଆଣୀମାନେ ୯୨୮ଟି ଜୋତା କିଣିଲେ ।

ସଂକ୍ଷେପରେ ଗୁଣନ :

$$\begin{array}{r} ୧୧୭ \\ \times ୮ \\ \hline ୯୨୮ \end{array}$$

● ଉଦାହରଣ ଦେଖି ଖାଲି ଘର ପୂରଣ କର :

$$୧୩ \times ୧୦ = ୧୩୦$$

$$୨୭ \times ୧୦ = ୨୭୦$$

$$୩୪ \times ୧୦ = ୩୪୦$$

$$୬୧ \times ୧୦ = \boxed{}$$

$$୫୫ \times ୧୦ = \boxed{}$$

$$୭୮ \times ୧୦ = \boxed{}$$

$$୮୨ \times ୧୦ = \boxed{}$$

$$୧୦୦ \times ୧୦ = \boxed{}$$

୧୦ ଦ୍ୱାରା ଗୁଣାଯାଉଥିବା ସଂଖ୍ୟା ଓ ଏମାନଙ୍କର ଗୁଣଫଳ ମଧ୍ୟରେ କ'ଣ ଲକ୍ଷ୍ୟ କରୁଛ ?

.....

.....

.....

.....

ଯେ କୌଣସି ସଂଖ୍ୟାକୁ ୧୦ ଦ୍ୱାରା ଗୁଣିଲେ, ଗୁଣ୍ୟର ଡାହାଣରେ ଗୋଟିଏ ଶୂନ୍ୟ '୦' ବସାଇଲେ ଗୁଣଫଳ ମିଳେ ।

ଅଭ୍ୟାସ

୧. ସ୍ଵାଧୀନତା ଦିବସରେ ଗୋଟିଏ ବିଦ୍ୟାଳୟରେ ପ୍ରତ୍ୟେକ ପିଲାକୁ ୩ଟି କରି ଲତୁ ଦିଆଗଲା । ୧୨୫ ଜଣ ପିଲାଙ୍କୁ କେତୋଟି ଲତୁ ଦିଆଗଲା ?

ଉତ୍ତର—

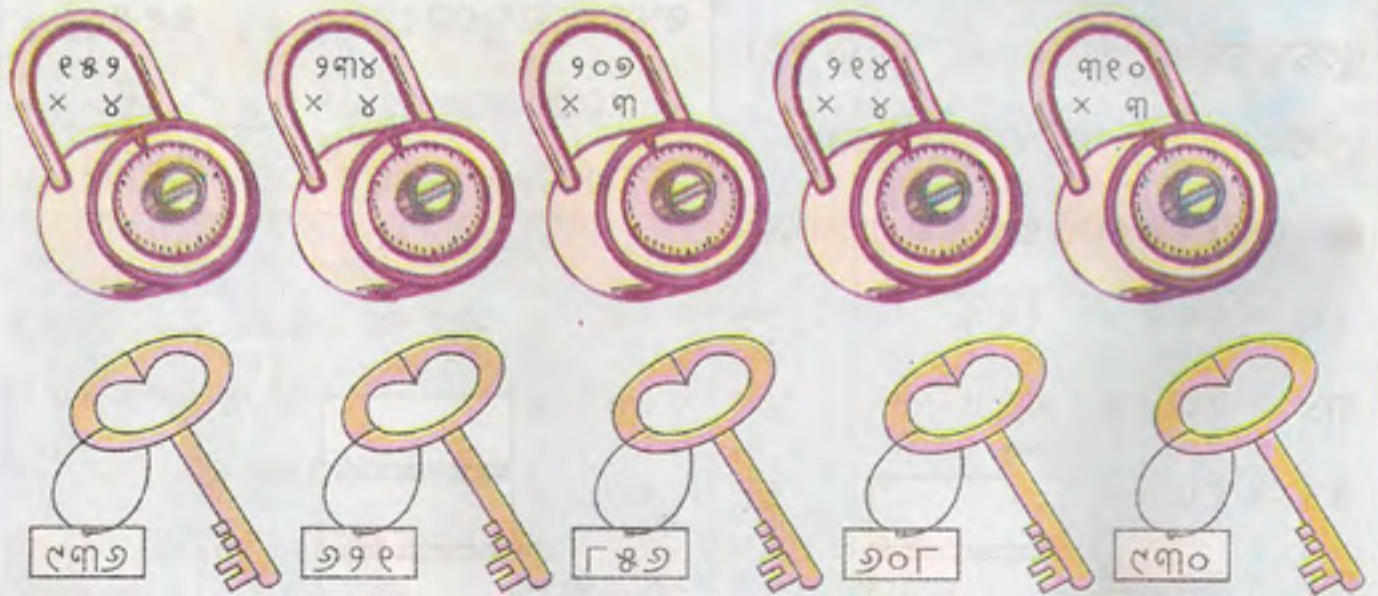
ଜଣେ ପିଲାକୁ ଦିଆଗଲା ୩ଟି ଲତୁ

୧୨୫

୧୨୫ ଜଣ ପିଲାଙ୍କୁ ଦିଆଯିବ = ୧୨୫ × ୩ =

× ୩

୨. କେଉଁ ତାଲା କେଉଁ ଚାବି କାଠିରେ ଖୋଲିବ ?



୩. ଗୁଣଫଳ ବାହାର କର ।

୭୨

୧୪୩

୧୦୫

୨୦୬

୪୦୦

× ୨

× ୬

× ୩

× ୪

× ୨

୪. ତଳଲିଖିତ ପ୍ରଶ୍ନଗୁଡ଼ିକୁ ସମାଧାନ କର :-

(କ) ୧୬ଟି ଫୁଲତୋଡ଼ା ତିଆରି ହେବ । ଗୋଟିଏ ଫୁଲତୋଡ଼ାରେ ୮ଟି ଫୁଲ ରହିଲେ, ସମୁଦାୟ କେତୋଟି ଫୁଲ ଦରକାର ହେବ ।


(ଖ) ଭୁବନେଶ୍ଵରରୁ କୋରାପୁଟକୁ ଜଣପିଛା ରେଳଭଡ଼ା ୧୪୮ ଟଙ୍କା । ଗୋଟିଏ ପରିବାରର ୬ ଜଣ ଲୋକ ଭୁବନେଶ୍ଵରରୁ କୋରାପୁଟ ଗଲେ । ସେମାନେ କେତେ ଟଙ୍କା ରେଳଭଡ଼ା ଦେଲେ ?

ବିଭାଗ ୩

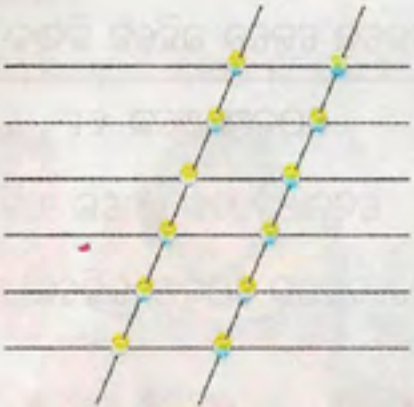
- (ଗ) ଜୟରାମବାବୁଙ୍କ ପାଇଁରୁଟି କାରଖାନାରେ ଘଣ୍ଟାକୁ ୧୨୦ଟି ପାଇଁରୁଟି ତିଆରି ହୁଏ । ୨ ଘଣ୍ଟାରେ ସେହି କାରଖାନାରେ କେତୋଟି ପାଇଁରୁଟି ତିଆରି ହେବ ?
- (ଘ) ପ୍ରତି ଟ୍ରେରେ ୩୦ଟି ଅଣ୍ଡା ରହିଲେ, ୯ଟି ଟ୍ରେରେ କେତୋଟି ଅଣ୍ଡା ରହିବ ?
- (ଙ) ଗୋଟିଏ ଶାଢ଼ୀର ଦାମ୍ ୩୦୭ ଟଙ୍କା ହେଲେ, ସେହିପରି ୩ଟି ଶାଢ଼ୀ କିଣିବାକୁ କେତେ ଟଙ୍କା ଦରକାର ?
- (ଚ) ଜଣେ ବ୍ୟବସାୟୀ ପ୍ରତି କୋଠାରେ ୨୨୪ଟି ଡେଲଟିଶ ରଖିଲେ । ସେ ୪ଟି କୋଠାରେ କେତୋଟି ଡେଲଟିଶ ରଖିବେ ?
- (ଛ) ଗୋଟିଏ ପୁସ୍ତକ ମୂଲ୍ୟ ୫୮ ଟଙ୍କା । ଭାସ୍କରବାବୁ ଏକା ପ୍ରକାରର ୧୦ଟି ପୁସ୍ତକ କିଣିଲେ । ସେ କେତେ ଟଙ୍କା ଦୋକାନୀକୁ ଦେବେ ?

୫. କାଠିରୁ ଗୁଣନ -

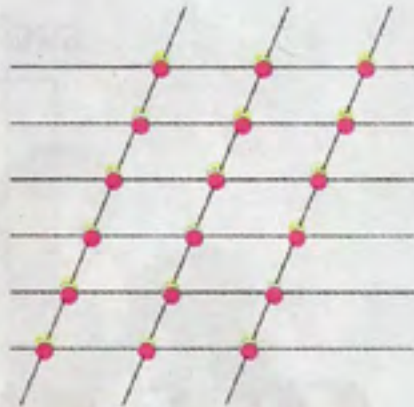
ଯେପରି-



$5 \times 1 = 5$



$5 \times 2 =$



$5 \times 3 =$

ଏହିପରି, 7×9 ଓ 7×8 କୁ ଚିତ୍ରରେ ଦେଖାଅ ।

