
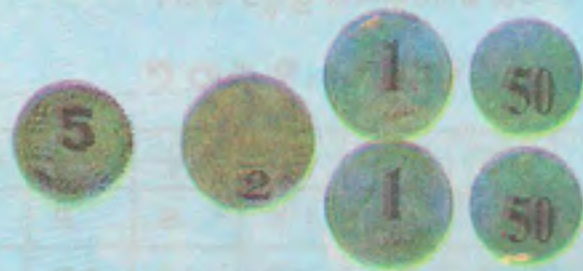


ଟଙ୍କା ପଇସା ହିସାବ

ଆମେ ସମାନ ।






- ଉପରେ ଥିବା ନୋଟ ପରିମାଣ ସହ ତଳ ଧାଡ଼ିରେ ଥିବା ଯେଉଁ ନୋଟମାନଙ୍କର ପରିମାଣ ସମାନ ତାକୁ ତାର ଚିହ୍ନ ଦେଇ ଯୋଡ଼ ।





- ମଝିଘର ଟଙ୍କାର ପରିମାଣ ଯେଉଁ ଘରର ଟଙ୍କାର ପରିମାଣ ସହ ସମାନ ତାକୁ ତାର ଚିତ୍ର ଦେଇ ଚିହ୍ନାଅ ।



୧୦ ଟଙ୍କା = \_\_\_\_\_ ଟି ୫ ଟଙ୍କା

= \_\_\_\_\_ ଟି ୨ ଟଙ୍କା

୫୦ ଟଙ୍କା = \_\_\_\_\_ ଟି ୧୦ ଟଙ୍କା

= \_\_\_\_\_ ଟି ୫ ଟଙ୍କା

= ୩ଟି ୧୦ ଟଙ୍କା + \_\_\_\_\_ ଟି ୫ ଟଙ୍କା

= \_\_\_\_\_ ଟି ୨୦ ଟଙ୍କା + \_\_\_\_\_ ଟି ୧୦ ଟଙ୍କା

୧୦୦ ଟଙ୍କା = \_\_\_\_\_ ଟି ୫୦ ଟଙ୍କା

= \_\_\_\_\_ ଟି ୫୦ ଟଙ୍କା + \_\_\_\_\_ ଟି ୨୦ ଟଙ୍କା + \_\_\_\_\_ ଟି ୧୦ ଟଙ୍କା

= \_\_\_\_\_ ଟି ୨୦ ଟଙ୍କା + ୪ ଟି ଦଶ ଟଙ୍କା + \_\_\_\_\_ ଟି ୫ ଟଙ୍କା



● ତାର ଚିତ୍ର ଦେଇ ମିଳାଅ ।

- ୨ଟି ୨୦ ଟଙ୍କା + ୩ଟି ୧୦ ଟଙ୍କା
- ୩ଟି ୧୦ ଟଙ୍କା + ୫ଟି ୫ ଟଙ୍କା
- ୧ଟି ୫୦ ଟଙ୍କା + ୨ଟି ୨୦ ଟଙ୍କା
- ୬ଟି ୧୦ ଟଙ୍କା + ୩ଟି ୫ ଟଙ୍କା
- ୩ଟି ୧୦ ଟଙ୍କା + ୧୦ଟି ୫ ଟଙ୍କା
- ୭ଟି ୫ ଟଙ୍କା + ୫ଟି ୧୦ ଟଙ୍କା

- ୮୫ ଟଙ୍କା
- ୭୫ ଟଙ୍କା
- ୯୦ ଟଙ୍କା
- ୭୦ ଟଙ୍କା
- ୫୫ ଟଙ୍କା
- ୮୦ ଟଙ୍କା
- ୧୦୦ ଟଙ୍କା

● ତଳେ ବିଭିନ୍ନ ଖେଳଣାର ଦାମ୍ ଲେଖାଯାଇଛି । ଲକ୍ଷ୍ୟ କର ।



୭୫ ଟଙ୍କା



୫୦ ଟଙ୍କା



୮୦ ଟଙ୍କା



୮୫ ଟଙ୍କା



୧୨୫ ଟଙ୍କା



୧୭୫ ଟଙ୍କା

● ଦାମ୍ ମିଶି କେତେ ହେବ ?

- (କ) ମାଛ ଓ କୁକୁଡ଼ା ଦାମ୍ ମିଶି \_\_\_\_\_ + \_\_\_\_\_ =
- (ଖ) ଶୁଆ ଓ ଠେକୁଆ ଦାମ୍ ମିଶି \_\_\_\_\_ + \_\_\_\_\_ =
- (ଗ) କୁକୁର ଓ ଠେକୁଆ ଦାମ୍ ମିଶି \_\_\_\_\_ + \_\_\_\_\_ =
- (ଘ) ଶୁଆ ଓ କାଉ ଦାମ୍ ମିଶି \_\_\_\_\_ + \_\_\_\_\_ =
- (ଙ) କୁକୁଡ଼ା ଓ କୁକୁର ଦାମ୍ ମିଶି \_\_\_\_\_ + \_\_\_\_\_ =
- (ଚ) କାଉ ଓ ମାଛ ଦାମ୍ ମିଶି \_\_\_\_\_ + \_\_\_\_\_ =

କଲମ ଓ ରବର \_\_\_\_\_ + \_\_\_\_\_

ବହି ଓ ପେନସିଲ \_\_\_\_\_ + \_\_\_\_\_

ବହି ଓ ରବର \_\_\_\_\_ + \_\_\_\_\_

କଲମ ଓ ବହି \_\_\_\_\_ + \_\_\_\_\_

ପେନସିଲ ଓ କଲମ \_\_\_\_\_ + \_\_\_\_\_



ରବର - ୪ ଟଙ୍କା



ବହି - ୧୮ ଟଙ୍କା



ପେନସିଲ - ୬ ଟଙ୍କା



କଲମ - ୧୫ ଟଙ୍କା



- ବାପା ନରେଶକୁ ସାଙ୍ଗରେ ନେଇ ପରିବା କିଣିବାକୁ ବଜାର ଗଲେ । ଆଳୁ ଓ କୋବି ୨ଟି ଜିନିଷ କିଣିବେ । ୪ଟି ପରିବା ଦୋକାନ ଥିଲା ।

**ପ୍ରଥମ ଦୋକାନ**

ଆଳୁ	ବାଇଗଣ
	
ଟଙ୍କ.୦୦ ପ	ଟଙ୍କ.୦୦ ପ
ପିଆଜ	କୋବି
	
ଟଙ୍କ.୫୦ ପ	ଟଙ୍କ୨.୦୦ ପ

**ଦ୍ୱିତୀୟ ଦୋକାନ**

ଆଳୁ	ବାଇଗଣ
	
ଟଙ୍କ.୫୦ ପ	ଟଙ୍କ.୨୫ ପ
ପିଆଜ	କୋବି
	
ଟଙ୍କ.୨୫ ପ	ଟଙ୍କ୩.୦୦ ପ

**ତୃତୀୟ ଦୋକାନ**

ଆଳୁ	ବାଇଗଣ
	
ଟଙ୍କ.୭୫ ପ	ଟଙ୍କ.୫୦ ପ
ପିଆଜ	କୋବି
	
ଟଙ୍କ.୦୦ ପ	ଟଙ୍କ୪.୦୦ ପ

**ଚତୁର୍ଥ ଦୋକାନ**

ଆଳୁ	ବାଇଗଣ
	
ଟଙ୍କ.୦୦ ପ	ଟଙ୍କ.୦୦ ପ
ପିଆଜ	କୋବି
	
ଟଙ୍କ.୦୦ ପ	ଟଙ୍କ୨.୫୦ ପ

ବାପା ନରେଶକୁ ପଚାରିଲେ, କେଉଁ ଦୋକାନରୁ ଆଳୁ ଓ କୋବି କିଣିଲେ କମ୍ ଦାମ୍ରେ ଆମେ କିଣିବା । ନରେଶ ହିସାବ କଲା ।

	୧ମ ଦୋକାନ	୨ୟ ଦୋକାନ	୩ୟ ଦୋକାନ	୪ର୍ଥ ଦୋକାନ
ଆଳୁ	ଟଙ୍କ. ୫.୦୦ପ.	ଟଙ୍କ. ୫.୫୦ପ.	ଟଙ୍କ. ୪.୭୫ପ.	ଟଙ୍କ. ୫.୦୦ପ.
କୋବି	ଟଙ୍କ୨.୦୦ପ.	ଟଙ୍କ୩.୦୦ପ.	ଟଙ୍କ୪.୦୦ପ.	ଟଙ୍କ୨.୫୦ପ.
	ଟଙ୍କ୭.୦୦ପ.	ଟଙ୍କ୬.୫୦ପ.	ଟଙ୍କ୮.୭୫ପ.	ଟଙ୍କ୭.୫୦ପ.

କହ, କେଉଁ ଦୋକାନରୁ କିଣିଲେ କମ୍ ଦାମ୍ ଦେବାକୁ ହେବ ?

- ସେହିପରି ହିସାବ କରି କହ, କେଉଁ କେଉଁ ଦୋକାନରେ କମ୍ ଦାମ୍ ଦେବା ?
- ଆଳୁ ଓ ପିଆଜ କିଣିଲେ
- ପିଆଜ ଓ ବାଇଗଣ କିଣିଲେ
- କୋବି ଓ ପିଆଜ କିଣିଲେ
- ଆଳୁ ଓ ବାଇଗଣ କିଣିଲେ



ଆଜୁ ଓ ପିଆଜ କିଣି ଚତୁର୍ଥ ଦୋକାନର ଦୋକାନୀକୁ ୨୦ ଟଙ୍କା ଦେଲେ, ସେ କେତେ ଫେରାଇବ ?

- ଟ. ପ
- ୨୦. ୦୦
- ୧୩. ୦୦
- ୭. ୦୦

ଚତୁର୍ଥ ଦୋକାନରୁ ପିଆଜ ଓ ବାଇଗଣ କିଣି ୫୦ ଟଙ୍କା ଦେଲେ, ସେ କେତେ ଫେରାଇବ ?

- ଟ. ପ.
- ୫୦. ୦୦
- ୧୭. ୦୦
- ୩୩. ୦୦

ତୃତୀୟ ଦୋକାନରୁ କୋବି ଓ ପିଆଜ କିଣି ୨୫ ଟଙ୍କା ଦେଲେ, ସେ କେତେ ଫେରାଇବ ?

- ଟ. ପ.
- ୨୫. ୦୦
- ୨୧. ୦୦
- ୪. ୦୦

### ଅଭ୍ୟାସ

- ୧. (କ) ୧୦୦ ଟଙ୍କା ବଦଳରେ \_\_\_\_\_ ଟି ୫୦ ଟଙ୍କିଆ ନୋଟ୍ ମିଳିବ।
- (ଖ) ୫୦ ଟଙ୍କା ବଦଳରେ \_\_\_\_\_ ଟି ୨୦ଟ. ନୋଟ୍ ଓ \_\_\_\_\_ ଟି ୧୦ଟ. ନୋଟ୍ ମିଳିବ।
- (ଗ) ୨୦ ଟଙ୍କା ବଦଳରେ \_\_\_\_\_ ଟି ୧୦ଟ. ନୋଟ୍ ଓ \_\_\_\_\_ ଟି ୫ଟ ନୋଟ୍ ମିଳିବ।
- (ଘ) ୫ ଟଙ୍କା ବଦଳରେ \_\_\_\_\_ ଟି ୨ଟଙ୍କିଆ ନୋଟ୍ ଓ \_\_\_\_\_ ଟି ୧ଟଙ୍କିଆ ନୋଟ୍ ମିଳିବ।



୨. ତୁମେ ୨୦ ଟଙ୍କା ଦେଇ ଗୋଟିଏ ବଲ୍ ଓ ୨୭  
ଟଙ୍କା ଦେଇ ଗୋଟିଏ ବ୍ୟାଟ୍ କିଣିଲ । ମୋଟ  
କେତେ ଟଙ୍କା ଖର୍ଚ୍ଚ କଲ ?

ବଲ୍ ଦାମ = \_\_\_\_\_

ବ୍ୟାଟ୍ ଦାମ = \_\_\_\_\_

ମୋଟ ଦାମ = \_\_\_\_\_

୩. ରହିମ୍ ବଜାରକୁ ୯୫ ଟଙ୍କା ନେଇ ଯାଇଥିଲା । ସେ  
୨୮ ଟଙ୍କା ଦେଇ କୁକୁଡ଼ାଟିଏ କିଣିଲା । ତେବେ ତା'  
ପାଖରେ ଆଉ କେତେ ଟଙ୍କା ବଳିଲା ?

ରହିମ୍ ପାଖରେ ଥିଲା = \_\_\_\_\_

କୁକୁଡ଼ା କିଣିଲା = \_\_\_\_\_

ରହିଲା = \_\_\_\_\_

୪. ଗୋଟିଏ ଖେଳନାର ଦାମ୍ ୬୦ ଟଙ୍କା ୮୦ ପଇସା ।  
ତୁମ ପାଖରେ ୪୫ ଟଙ୍କା ଅଛି । ଆଉ କେତେ ଟଙ୍କା  
ହେଲେ ତୁମେ ଖେଳନାଟି କିଣିବ ?

ଖେଳନାର ଦାମ = \_\_\_\_\_

ପାଖରେ ଅଛି = \_\_\_\_\_

ଆଉ ଦରକାର = \_\_\_\_\_

୫. ଗୀତା ପାଖରେ ୯୧ ଟଙ୍କା ୫୦ ପଇସା ଅଛି ।  
ମିତା ପାଖରେ ତା' ଠାରୁ ୧୨ ଟଙ୍କା ୨୫ ପଇସା  
କମ୍ ଅଛି । ମିତା ପାଖରେ କେତେ ଟଙ୍କା ଅଛି ?

୬. ହରି ପାଖରେ ୨୫ ଟଙ୍କା ୭୫ ପଇସା ଥିଲା ।  
ମାମୁ ତାକୁ ୫୦ ଟଙ୍କା ଦେଲେ । ସେ ୬୦ ଟଙ୍କା  
୫୦ ପଇସା ଦେଇ ସାର୍ଟି କିଣିଲା । ତା' ପାଖରେ  
ଆଉ କେତେ ରହିଲା ?