



ତଥ୍ୟ ଉପସ୍ଥାପନା

ବିଦ୍ୟାଳୟ ମହାମଣ୍ଡଳର ସଦସ୍ୟମାନେ ପ୍ରତ୍ୟେକ ବିଭାଗରେ କି କି କାମ ହେବ ତା'ର ତାଲିକା ତିଆରି କରୁଥିଲେ । ପ୍ରତ୍ୟେକ ବିଭାଗ ସେମାନେ ତିଆରି କରିଥିବା ତାଲିକାକୁ ଶ୍ରେଣୀରେ ଟାଙ୍ଗି ଦେଲେ ।

ସ୍ଵାସ୍ଥ୍ୟ ଓ ପରିମଳ ବିଭାଗ

- * ନଖ, ଦାନ୍ତ ସଫା ତଦାରଖ କରିବା ।
- * ବରିଚା ସଫା ରଖିବା
- * ବିଦ୍ୟାଳୟ ହତା ସଫା କରିବା
- * କମ୍ପୋଷ୍ଟ ଖାତ ତିଆରି କରିବା
- * ଶ୍ରେଣୀ ଝାଡୁ କରିବା
- * ଶ୍ରେଣୀରେ ମଇଦାକୁଣ୍ଡର ବ୍ୟବହାର କରିବା

ଖାଦ୍ୟ ଓ ବରିଚା ବିଭାଗ

- * ମଧ୍ୟାହ୍ନ ଭୋଜନ ବେଳେ ଧାଡ଼ିରେ ବସାଇବା
- * ମଧ୍ୟାହ୍ନ ଭୋଜନ ସମୟରେ ଶାନ୍ତିଶୃଙ୍ଖଳା ରକ୍ଷା କରିବା
- * ବରିଚାରେ ଫୁଲଗଛ ଲଗାଇବା
- * ପ୍ରତ୍ୟେକ ଶ୍ରେଣୀରେ ପାନୀୟଜଳର ବ୍ୟବସ୍ଥା କରିବା
- * ଫୁଲଗଛର ଯତ୍ନ ନେବା

ଶିକ୍ଷା ବିଭାଗ

- * ପିଲାଙ୍କ ଉପସ୍ଥାନ ନେବା
- * ଖାତା ସଂଗ୍ରହ କରିବା
- * ଖାତା ବାଣ୍ଟିବା
- * ଲାଇବ୍ରେରୀ ବହିକୁ ସଜାଡ଼ି ରଖିବା
- * ପିଲା କରିଥିବା ଚିତ୍ରକୁ ଶ୍ରେଣୀରେ ଟାଙ୍ଗିବା
- * ଶିକ୍ଷଣ ସାମଗ୍ରୀକୁ ସଜାଡ଼ି ରଖିବା
- * ଶ୍ରେଣୀରେ ଶାନ୍ତିଶୃଙ୍ଖଳା ରକ୍ଷା କରିବା

ଜୁଡ଼ା ଓ ସାଂସ୍କୃତିକ ବିଭାଗ

- * ନାଚ, ଗୀତ କାର୍ଯ୍ୟକ୍ରମ ଆୟୋଜନ କରିବା
- * ବାର୍ଷିକ ଜୁଡ଼ା ପ୍ରତିଯୋଗିତା କରିବା
- * ପ୍ରାର୍ଥନା ସଭା ପରିଚାଳନା କରିବା

ମାନା ବିଭାଗ

- * ଝିଅମାନଙ୍କୁ ଘରୁ ତାଳି ବିଦ୍ୟାଳୟକୁ ଆଣିବା
- * ଝିଅ ପିଲାମାନଙ୍କ ଦ୍ଵାରା ପତ୍ରିକା ତିଆରି କରିବା
- * ଝୋଟି ଆଳି ବିଦ୍ୟାଳୟକୁ ସଜାଇବା
- * ବିଶିଷ୍ଟ ମହିଳାଙ୍କ ଫଟୋ ସଂଗ୍ରହ କରିବା





• ପୂର୍ବପୂଷାରେ ଦିଆଯାଇଥିବା ତାଲିକାଗୁଡ଼ିକୁ ଦେଖି ତଳ ପ୍ରଶ୍ନମାନଙ୍କର ଉତ୍ତର ଲେଖ ।

- (କ) ବିଦ୍ୟାଳୟ ମହାମଣ୍ଡଳରେ କେତୋଟି ବିଭାଗ ଅଛି ? ସେଗୁଡ଼ିକ କ'ଣ କ'ଣ ?
- (ଖ) ପ୍ରତ୍ୟେକ ବିଭାଗର କାର୍ଯ୍ୟ ସଂଖ୍ୟା ନିର୍ଣ୍ଣୟ କରିବା ଲାଗି ତୁମେ ଚାଲି ଚିହ୍ନ ବ୍ୟବହାର କରି ସାରଣୀ ପ୍ରସ୍ତୁତ କର ।
- (ଗ) କେଉଁ ବିଭାଗ କେତୋଟି ଲେଖାଏଁ କାର୍ଯ୍ୟ କରିବା ପାଇଁ ତାଲିକା କରିଛନ୍ତି ?
- (ଘ) କେଉଁ ବିଭାଗ ସବୁଠାରୁ ଅଧିକ ସଂଖ୍ୟକ କାର୍ଯ୍ୟର ତାଲିକା କରିଛନ୍ତି ?
- (ଙ) ପ୍ରତ୍ୟେକ ବିଭାଗରେ ଆଉ କେଉଁ କେଉଁ କାମ କରାଯାଇ ପାରିବ ତାହାର ତାଲିକା ତିଆରି କର ।

ପ୍ରାର୍ଥନାସଭା ଶେଷ ହେବା ପରେ ଶିକ୍ଷା ବିଭାଗର ମହା ପ୍ରତ୍ୟେକ ଶ୍ରେଣୀର ପିଲାମାନଙ୍କର ଉପସ୍ଥାନ ନେଲେ । ପ୍ରତ୍ୟେକ ଶ୍ରେଣୀରେ ଉପସ୍ଥିତ ଥିବା ପିଲାସଂଖ୍ୟାକୁ ସେ କିପରି ସାରଣୀରେ ଦର୍ଶାଇଲେ ତାହା ଲକ୍ଷ୍ୟ କର ।

ଶ୍ରେଣୀର ନାମ	ଉପସ୍ଥିତ ପିଲାସଂଖ୍ୟା
ପ୍ରଥମ ଶ୍ରେଣୀ	୨୨
ଦ୍ୱିତୀୟ ଶ୍ରେଣୀ	୧୮
ତୃତୀୟ ଶ୍ରେଣୀ	୨୩
ଚତୁର୍ଥ ଶ୍ରେଣୀ	୧୭
ପଞ୍ଚମ ଶ୍ରେଣୀ	୧୪
ମୋଟ	



ଆଜି ଦିନରେ ତୁମ ବିଦ୍ୟାଳୟରେ କେଉଁ ଶ୍ରେଣୀରେ କେତେ ଜଣ ପିଲା ଆସିଛନ୍ତି ହିସାବ କର । ତାହାକୁ ଏକ ସାରଣୀରେ ସଜାଅ ।

ଦିନେ ଆଲୋଚନା କରି ମାନା ବିଭାଗର ସଦସ୍ୟମାନେ ଠିକ୍ କଲେ ଯେ, ବିଦ୍ୟାଳୟର ଝିଅମାନେ କେଉଁ କାମ କରିବାକୁ ପସନ୍ଦ କରନ୍ତି ନାମ କହିବାକୁ କୁହାଗଲା । ପ୍ରତ୍ୟେକଙ୍କର ପସନ୍ଦ କାର୍ଯ୍ୟକୁ ହିସାବ କରାଯାଇ ସାରଣୀ ପ୍ରସ୍ତୁତ କରାଗଲା । ଲକ୍ଷ୍ୟକର ।



କାମର ନାମ	କେତେ ଜଣ ଝିଅକୁ ଭଲ ଲାଗେ
ଚି.ଭି. ଦେଖିବା	୮
କ୍ରିକେଟ୍ ଖେଳିବା	୧୭
ଝୋଟି ପକାଇବା	୭
ଘରକାମ କରିବା	୧୦
ଜିନିଷ ପତ୍ର ସଜାଡ଼ିବା	୧୪
ଗୀତ ଶୁଣିବା	୬



ପୂର୍ବପୁଷାରେ ଦିଆଯାଇଥିବା ସାରଣୀକୁ ଦେଖି ତଳ ପ୍ରଶ୍ନମାନଙ୍କର ଉତ୍ତର ଲେଖ ।

- (କ) କେତେ ଜଣ ଝିଅଙ୍କଠାରୁ ତଥ୍ୟ ସଂଗ୍ରହ କରାଯାଇଛି ?
- (ଖ) କେଉଁ କାମ କରିବାକୁ ଅଧିକ ସଂଖ୍ୟକ ଝିଅ ପସନ୍ଦ କରିଛନ୍ତି ?
- (ଗ) କେଉଁ କାମ କରିବାକୁ ସବୁଠାରୁ କମ୍ ସଂଖ୍ୟକ ଝିଅ ପସନ୍ଦ କରିଛନ୍ତି ?



ସାରଣୀରେ ଥିବା ତଥ୍ୟକୁ ଲକ୍ଷ୍ୟ କରି ଆଉ କେତେଗୁଡ଼ିଏ ପ୍ରଶ୍ନ ତିଆରି କର । ତୁମ ଶ୍ରେଣୀରେ ପଢୁଥିବା ପିଲାମାନେ ସାଧାରଣତଃ ଯେଉଁ କାର୍ଯ୍ୟ କରିବାକୁ ଭଲ ପାଆନ୍ତି ଏଭଳି ପାଞ୍ଚଟି କାର୍ଯ୍ୟ ବାଛ । ସେହି କାର୍ଯ୍ୟ କରିବାକୁ ଚାହୁଁଥିବା ପିଲାମାନଙ୍କର ସଂଖ୍ୟା ଗଣି ସାରଣୀଟିଏ ପ୍ରସ୍ତୁତ କର ।

ମହାନାଟକର କ୍ରୀଡ଼ା ଓ ସାଂସ୍କୃତିକ ବିଭାଗ ତରଫରୁ ପଞ୍ଚମ ଶ୍ରେଣୀ ପିଲାମାନଙ୍କୁ ନେଇ ନାଟକ ଅଭିନୟ କରିବା ପାଇଁ ଯୋଜନା କରାଗଲା । ‘ଯେ ଥାଏ ପର ଉପକାରେ’ ବିଷୟର କଥାବସ୍ତୁକୁ ନେଇ ଶ୍ରେଣୀରେ ନାଟକ ଅଭିନୟ କରାଯିବ । କେଉଁ କାମ ପାଇଁ କେତେଜଣ ଦାୟିତ୍ୱ ନେଲେ ତାହାକୁ ତଳ ସାରଣୀରେ ଦିଆଯାଇଛି ।

ଦ୍ରାମା ସାରଣୀ



କାର୍ଯ୍ୟର ନାମ	ପିଲା ସଂଖ୍ୟା
ଅଭିନୟ	୬
ବାଜା ବଜାଇବା	୪
ମଞ୍ଚ ପ୍ରସ୍ତୁତ କରିବା	୫
ପୋଷାକପତ୍ର ଯୋଗାଡ଼ କରିବା	୩
ଶାନ୍ତିଶୃଙ୍ଖଳା ରକ୍ଷା କରିବା	୨



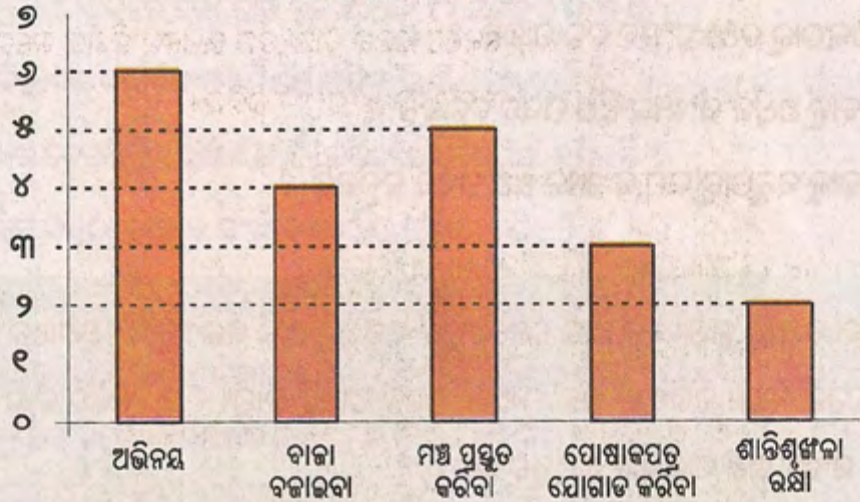
ଉପରେ ଦିଆଯାଇଥିବା ସାରଣୀକୁ ଲକ୍ଷ୍ୟ କରି ତଳ ପ୍ରଶ୍ନଗୁଡ଼ିକର ଉତ୍ତର ଲେଖ ।

- (କ) କେଉଁ କାର୍ଯ୍ୟ ପାଇଁ କେତେ ଜଣ ପିଲା ଦାୟିତ୍ୱ ନେଇଛନ୍ତି ?
- (ଖ) ମୋଟ କେତେ ଜଣ ପିଲା ଭିନ୍ନ ଭିନ୍ନ ଦାୟିତ୍ୱ ନେଇଛନ୍ତି ?
- (ଗ) ଅଧିକ ସଂଖ୍ୟକ ପିଲା କେଉଁ କାମ ପାଇଁ ଦାୟିତ୍ୱ ନେଇଛନ୍ତି ?
- (ଘ) କେଉଁ କାମ ପାଇଁ କମ୍ ସଂଖ୍ୟକ ପିଲା ଦାୟିତ୍ୱ ନେଇଛନ୍ତି ?
- (ଙ) ସାରଣୀରେ ଦିଆଯାଇଥିବା ତଥ୍ୟକୁ ଚିତ୍ରଲେଖରେ ପ୍ରକାଶ କରାଯାଇପାରିବ କି ? କିପରି ?

ଦ୍ରାମା ସାରଣୀରେ ଥିବା ତଥ୍ୟକୁ ନେଇ ଶିକ୍ଷା ବିଭାଗର ମନ୍ତ୍ରୀ ଏକ ସ୍ତମ୍ଭଲେଖ କରି ଶ୍ରେଣୀରେ ଟାଙ୍ଗିଲେ । ଏହାକୁ ସେ କିପରି ତିଆରି କରିଥିଲେ ଆସ ଦେଖିବା ।



ଭ୍ରାମା ପାଇଁ କାର୍ଯ୍ୟ ବଣ୍ଟନ ସାରଣୀ

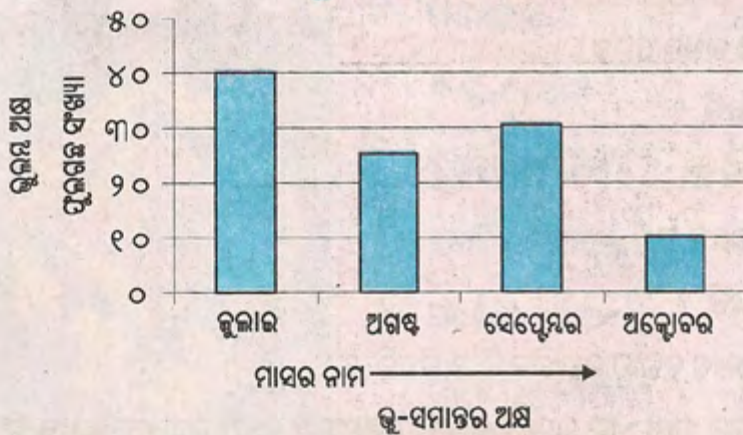


ଲକ୍ଷ୍ୟ କର-

- ଏହି ସ୍ତମ୍ଭଲେଖର ଏକ ନାମ ରହିଛି, ଏଠାରେ ସ୍ତମ୍ଭଲେଖର ନାମ ହେଉଛି (ଭ୍ରାମା ପାଇଁ କାର୍ଯ୍ୟ ବଣ୍ଟନ ସାରଣୀ) ।
- ପାଞ୍ଚ ପ୍ରକାରର କାମ ପାଇଁ ସେ ୫ଟି ଅଲଗା ଅଲଗା ସ୍ତମ୍ଭ ତିଆରି କରାଯାଇଛି ।
- ଦୁଇଟି ପାଖାପାଖି ଥିବା ସ୍ତମ୍ଭ ମଧ୍ୟରେ ଖାଲି ସ୍ଥାନ ରହିଛି ।
- ଅଭିନୟ କାର୍ଯ୍ୟରେ ୬ ଜଣ ପିଲା ଦାୟିତ୍ୱରେ ଥିବାରୁ ସ୍ତମ୍ଭଟି ୬ ସଂଖ୍ୟା ପର୍ଯ୍ୟନ୍ତ ଉଚ୍ଚ ହୋଇଛି ।
- ସେହିପରି ବାଜା ବଜାଇବା ପାଇଁ ୪ ଜଣ ଦାୟିତ୍ୱ ନେଇଥିବାରୁ ସେହି ସ୍ତମ୍ଭଟି ୪ ସଂଖ୍ୟା ପର୍ଯ୍ୟନ୍ତ ଉଚ୍ଚତା ହୋଇଛି ।
- ଏହି ସ୍ତମ୍ଭଲେଖରୁ ତୁମେ ଆଉ କ'ଣ ସବୁ ଲକ୍ଷ୍ୟ କରୁଛ ଲେଖ ।

ଖାଦ୍ୟ ଓ ବଗିଚା ବିଭାଗର ସଦସ୍ୟମାନେ ବିଦ୍ୟାଳୟ ବଗିଚାରେ କେଉଁ ମାସରେ କେତୋଟି ଫୁଲଗଛ ଲଗାଇଥିଲେ ତାହା ଏକ ତାଲିକା ପ୍ରସ୍ତୁତ କରିଥିଲେ । ସେହି ତାଲିକାକୁ ଲକ୍ଷ୍ୟ କରି ସେମାନେ ସ୍ତମ୍ଭଲେଖ ତିଆରି କଲେ ।

ଫୁଲଗଛ ରୋପଣ



ଲକ୍ଷ୍ୟକର, ଏହି ସ୍ତମ୍ଭଲେଖରେ ମାସଗୁଡ଼ିକର ନାମକୁ ଭୁ-ସମାନ୍ତର ଅକ୍ଷରେ ସୁଚିତ କରାଯାଇଛି ଓ ଭୁ-ଲମ୍ଭ ଅକ୍ଷରେ ଫୁଲଗଛ ସଂଖ୍ୟାକୁ ଦେଖାଯାଇଛି ।

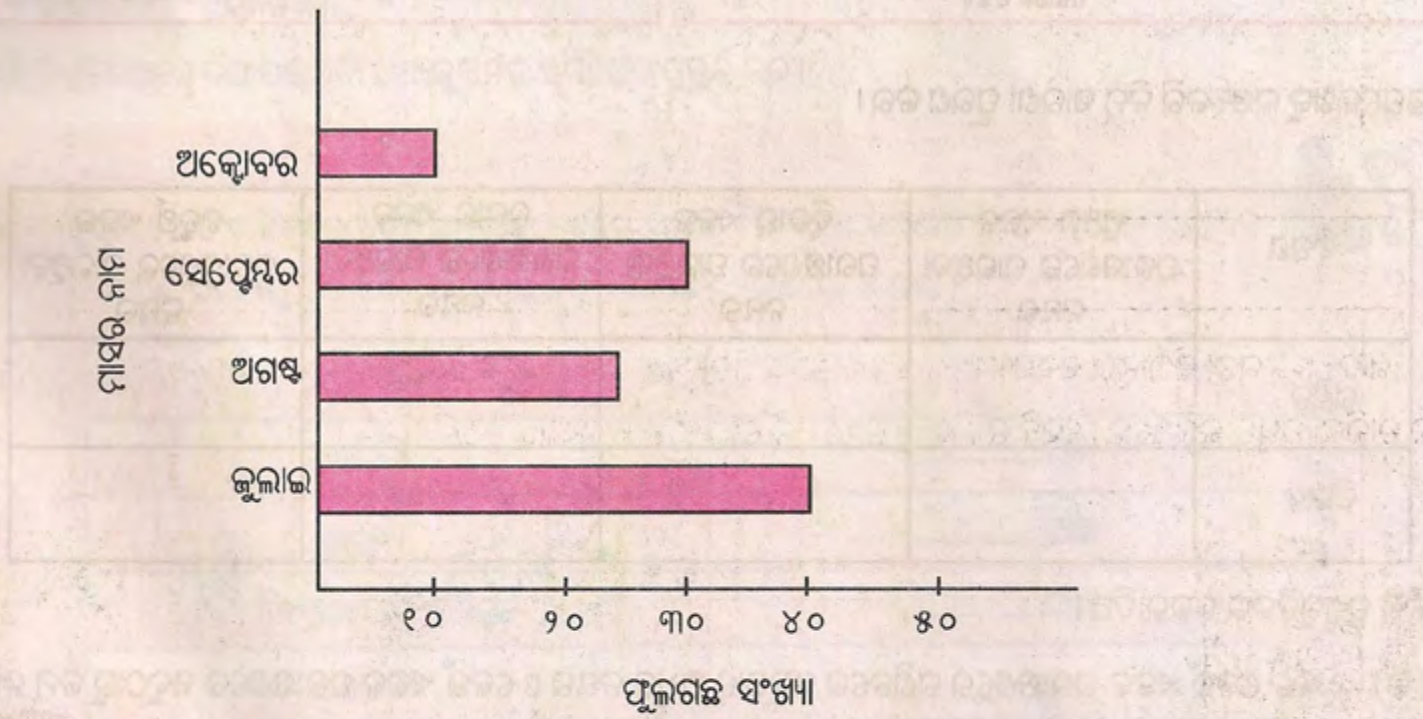


ଗୋଟିଏ ସ୍ତମ୍ଭଲେଖରେ ଥିବା ପ୍ରତ୍ୟେକ ସ୍ତମ୍ଭର ଓସାର ସମାନ । ଫୁଲଗଛର ସଂଖ୍ୟାକୁ ନେଇ ସ୍ତମ୍ଭର ଉଚ୍ଚତା ଅଲଗା ଅଲଗା ହେଉଛି । ସ୍ତମ୍ଭର ଓସାର କେତେ ହେବ ଓ ଦୁଇଟି ପାଖାପାଖି ସ୍ତମ୍ଭ ମଧ୍ୟରେ ଦୂରତା କେତେ ହେବ ତାହା ତୁମ ଉପରେ ନିର୍ଭର କରେ । କିନ୍ତୁ ମନେରଖିବାକୁ ହେବ ଯେ ଦୁଇଟି ପାଖାପାଖି ଥିବା ସ୍ତମ୍ଭ ମଧ୍ୟରେ ଖାଲିସ୍ଥାନର ଦୂରତା ସବୁବେଳେ ସମାନ ରହିବ ।

ଏହି ସ୍ତମ୍ଭଲେଖରୁ ତୁମେ ନିମ୍ନ ପ୍ରଶ୍ନଗୁଡ଼ିକର ଉତ୍ତର ଲେଖ ।

- (କ) କେତୋଟି ମାସର ଲଗାଯାଇଥିବା ଫୁଲଗଛ ସଂଖ୍ୟା ଦିଆଯାଇଛି ?
- (ଖ) କେଉଁ ମାସରେ କେତୋଟି ଲେଖାଏଁ ଫୁଲଗଛ ଲଗାଯାଇଛି ?
- (ଗ) କେଉଁ ମାସରେ କେତୋଟି ଫୁଲଗଛ ଲାଗିଥିଲା ତାହା ତୁମେ କିପରି ଜାଣିପାରିଲ ?
- (ଘ) କେଉଁ ମାସରେ ସବୁଠାରୁ ଅଧିକ ସଂଖ୍ୟକ ଫୁଲଗଛ ଲଗାଯାଇଛି ?
- (ଙ) କେଉଁ ମାସରେ ସବୁଠାରୁ କମ୍ ସଂଖ୍ୟକ ଫୁଲଗଛ ଲଗାଯାଇଛି ?
- (ଚ) ଉପରୋକ୍ତ ସ୍ତମ୍ଭଲେଖର ତଥ୍ୟକୁ ନେଇ ଗୋଟିଏ ଚିତ୍ରଲେଖ ପ୍ରସ୍ତୁତ ତିଆରି କର ।

“ଫୁଲଗଛ ରୋପଣ” ନାମକ ସ୍ତମ୍ଭଲେଖକୁ ମଧ୍ୟ ଆଉ ଏକ ଉପାୟରେ ତିଆରି କରାଯାଇପାରିବ । ତାହାକୁ ଲକ୍ଷ୍ୟ କର ।



- (କ) ଉଭୟ ସ୍ତମ୍ଭଲେଖ ମଧ୍ୟରେ କ'ଣ ଭିନ୍ନତା ଅଛି ?
- (ଖ) ଉଭୟ ସ୍ତମ୍ଭଲେଖରୁ ସମାନ ତଥ୍ୟ ମିଳୁଛି କି ?
- (ଗ) କେଉଁ ସ୍ତମ୍ଭଲେଖଟି ପ୍ରସ୍ତୁତ କରିବା ତୁମ ପାଇଁ ସୁବିଧାଜନକ ? କାହିଁକି ?



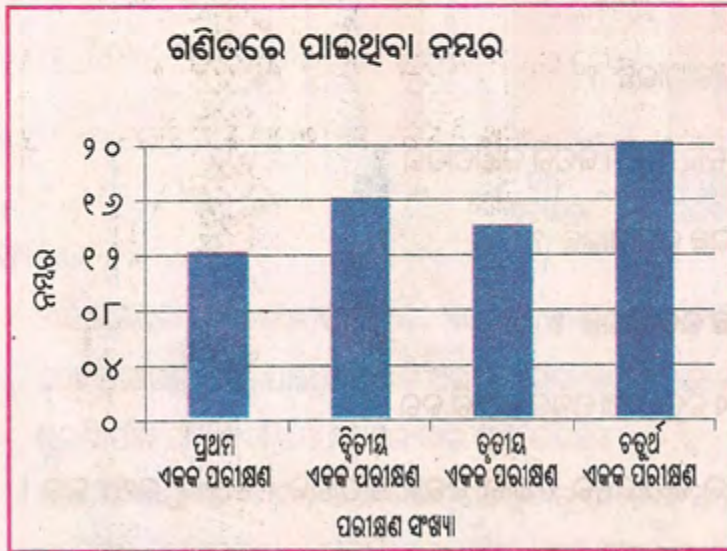
ତୁମର ପାଞ୍ଚଜଣ ସାଙ୍ଗଙ୍କର କେତୋଟି ଲେଖାଏଁ ସାର୍ତ୍ତ/ଫୁଲ ଅଛି ବୁଝ । ଫୁଲ / ସାର୍ତ୍ତ ସଂଖ୍ୟାକୁ ସ୍ତମ୍ଭଲେଖରେ ପ୍ରକାଶ କର ।





ଅଭ୍ୟାସ

୧. ଧବଳ ଚତୁର୍ଥ ଶ୍ରେଣୀରେ ବିଭିନ୍ନ ଏକକ ପରୀକ୍ଷାରେ ଗଣିତ ଓ ବିଜ୍ଞାନରେ ରଖିଥିବା ନମ୍ବରକୁ ସ୍ତମ୍ଭଲେଖରେ ଦର୍ଶାଯାଇଛି ।



ସ୍ତମ୍ଭଲେଖକୁ ଲକ୍ଷ୍ୟ କରି ନିମ୍ନ ସାରଣୀ ପୂରଣ କର ।

ବିଷୟ	ପ୍ରଥମ ଏକକ ପରୀକ୍ଷାରେ ପାଇଥିବା ନମ୍ବର	ଦ୍ୱିତୀୟ ଏକକ ପରୀକ୍ଷାରେ ପାଇଥିବା ନମ୍ବର	ତୃତୀୟ ଏକକ ପରୀକ୍ଷାରେ ପାଇଥିବା ନମ୍ବର	ଚତୁର୍ଥ ଏକକ ପରୀକ୍ଷାରେ ପାଇଥିବା ନମ୍ବର
ଗଣିତ				
ବିଜ୍ଞାନ				

ନିମ୍ନ ପ୍ରଶ୍ନଗୁଡ଼ିକର ଉତ୍ତର ଦିଅ ।

- (କ) ଧବଳ କେଉଁ ଏକକ ପରୀକ୍ଷାରେ ଗଣିତରେ ସବୁଠାରୁ ଅଧିକ ନମ୍ବର ଓ କେଉଁ ଏକକ ପରୀକ୍ଷାରେ ସବୁଠାରୁ କମ୍ ରଖିଛି ?
- (ଖ) ଧବଳ କେଉଁ ଏକକ ପରୀକ୍ଷାରେ ବିଜ୍ଞାନରେ ସବୁଠାରୁ ଅଧିକ ନମ୍ବର ଓ କେଉଁ ଏକକ ପରୀକ୍ଷାରେ ସବୁଠାରୁ କମ୍ ରଖିଛି ?
- (ଗ) ଋରୋଟିଯାକ ପରୀକ୍ଷାରେ ସେ ଗଣିତରେ ମୋଟ କେତେ ନମ୍ବର ରଖିଛି ?
- (ଘ) ଋରୋଟିଯାକ ପରୀକ୍ଷାରେ ସେ ବିଜ୍ଞାନରେ ମୋଟ କେତେ ନମ୍ବର ରଖିଛି ?





9. ଗୋଟିଏ ସପ୍ତାହରେ ବିଭିନ୍ନ ଦିନରେ ଶ୍ରେଣୀରେ ଉପସ୍ଥିତ ଥିବା ପିଲାସଂଖ୍ୟାକୁ ଚିତ୍ରଲେଖରେ ଦର୍ଶାଯାଇଛି ।



(ଋରି ଜଣ ପିଲାଙ୍କ ପାଇଁ ଚିତ୍ର ଦିଆଯାଇଛି)

ଏହି ଚିତ୍ରଲେଖରେ ଦିଆଯାଇଥିବା ତଥ୍ୟକୁ ନେଇ ସ୍ତମ୍ଭଲେଖ ପ୍ରସ୍ତୁତ କର ।

ତୁମ ପାଇଁ କାମ

- ତୁମେ ଗୋଟିଏ ଦିନରେ କେଉଁ କାମରେ କେତେ ସମୟ ବିନିଯୋଗ କରିଥାଅ ହିସାବ କର । (ପ୍ରତ୍ୟେକ କାମ ପାଇଁ ସମୟକୁ ପୂର୍ଣ୍ଣ ଘଣ୍ଟାରେ ପ୍ରକାଶ କର, ଯେପରି- ୨ ଘଣ୍ଟା ବା ୪ ଘଣ୍ଟା)



କାର୍ଯ୍ୟର ନାମ	ସମୟ
ଶୋଇବା	_____ ଘଣ୍ଟା
ଖାଇବା	_____ ଘଣ୍ଟା
ବିଦ୍ୟାଳୟରେ ରହିବା	_____ ଘଣ୍ଟା
ଖେଳିବା	_____ ଘଣ୍ଟା
ଘରେ ପଢ଼ିବା	_____ ଘଣ୍ଟା
ଅନ୍ୟାନ୍ୟ କାର୍ଯ୍ୟ	_____ ଘଣ୍ଟା

ଏହି ତଥ୍ୟକୁ ସ୍ତମ୍ଭଲେଖରେ ପ୍ରକାଶ କର ।

ମନେରଖ- ସମସ୍ତ କାମ ପାଇଁ ବିନିଯୋଗ କରିଥିବା ସମୟର ପରିମାଣର ସମଷ୍ଟି ୨୪ ଘଣ୍ଟା ହେଉଥିବ ।



ବିଭିନ୍ନ ଚିତ୍ରରେ ସଂରଚନା

- ତଳେ ଦିଆଯାଇଥିବା ଶାଢ଼ିଧଡ଼ିକୁ ଲକ୍ଷ୍ୟକର ।




ଏଥିରେ କେଉଁ ଚିତ୍ରଗୁଡ଼ିକ ଥିବାର ଲକ୍ଷ୍ୟକରୁଛ ? କେଉଁ ଚିତ୍ରଗୁଡ଼ିକ ଶାଢ଼ିଧଡ଼ିରେ ବାରମ୍ବାର ବ୍ୟବହାର ହୋଇଛି ?



ତୁମେ ଏହି ଚିତ୍ରକୁ ଦେଖି ସେହିଭଳି ଚିତ୍ରଟିଏ ତିଆରି କର ।

- ବିଭିନ୍ନ ପର୍ବପର୍ବାଣୀରେ ତୁମଘରେ ଓ ତୁମ ପଡ଼ୋଶିକ ଘରେ ଝୋଟି ପଡ଼ିଥିବାର ଦେଖିଥିବ । ତଳେ ଦିଆଯାଇ ଝୋଟି ଚିତ୍ରକୁ ଲକ୍ଷ୍ୟକର ।



ଏହି ଚିତ୍ରରେ ସଂରଚନା ଲକ୍ଷ୍ୟକରୁଛ କି ? ତୁମେ ଏହିଭଳି ଚିତ୍ର ଆଙ୍କିବାକୁ ଚେଷ୍ଟାକର ।

- ତଳେ ଦିଆଯାଇଥିବା ଚିତ୍ରକଳା ଦୁଇଟିକୁ ଲକ୍ଷ୍ୟକର । ଏଥିରେ କୌଣସି ସଂରଚନା ଦେଖୁଛ କି ?



ତୁମେ ମନରୁ ଭାବି ଏହିଭଳି ଆଉ ଦୁଇଟି ଚିତ୍ର ତିଆରି କର ।





INDIAN ARMY



**An extraordinary life
A life full of adventure, honour and glory
Where you are one among a million,
and one in a million.**

**Be The Best
Join Indian Army**



www.joinindianarmy.nic.in



An extraordinary life'
A life full of adventure, honour and glory
Where you are one among a million,
and one in a million.

Be The Best
Join Indian Army




www.joinindianarmy.nic.in

ଏହି ପାଠ୍ୟପୁସ୍ତକ ସର୍ବଶିକ୍ଷା ଅଭିଯାନ ଚରପତ୍ର
 ଚପାସିଲକୁଳ ଜାତି ଓ ଉପଜାତିର ଛାତ୍ର, ଛାତ୍ରୀ
 ଏବଂ ସାଧାରଣ ବର୍ଗର ଛାତ୍ରୀମାନଙ୍କ
 ମଧ୍ୟରେ ବିନାମୂଲ୍ୟରେ ବିତରଣପାଇଁ ଉଦ୍ଦିଷ୍ଟ ।
 ଏହା ବିକ୍ରୟ କରାଯାଇପାରିବ ନାହିଁ । ସାଧାରଣ
 ବର୍ଗର ଛାତ୍ରମାନଙ୍କୁ ମଧ୍ୟ ଓଡ଼ିଶା ସରକାରଙ୍କ ଚରପତ୍ର
 ବିନା ମୂଲ୍ୟରେ ଦିଆଯାଇଛି ।

ସର୍ବଶିକ୍ଷା ଅଭିଯାନ

ସଭିଏଁ ପଢ଼ନ୍ତୁ ସଭିଏଁ ବଢ଼ନ୍ତୁ



ବିଦ୍ୟାଳୟ ଓ ଗଣଶିକ୍ଷା ବିଭାଗ
 ଓଡ଼ିଶା ସରକାର